

A B C Ç D E F G  
Ğ H I İ J K L M  
N O Ö P R S Ş  
T U Ü V Y Z

.....  
Ağzımızdan çıkan seslerin yazı dilindeki karşılığına harf denir. Dilimizde 29 tane harf vardır. Bunlardan 8 tanesi sesli(ünlü), 21 tanesi ise sessiz(ünsüz) harftir. Ünlü harfler; a, e, ı, i, o, ö, u ve ü'dür.

(İlk 3 soruyu metne göre cevaplayınız.)

1) Ağzımızdan çıkan seslerin yazı dilindeki karşılığına ne denir?

A) Harf B) Rakam C) Hece

2) Aşağıdakilerden hangisine ünsüz harfler de denir?

A) Sesli harfler  
B) Sessiz harfler  
C) Suskun harfler

3) Hangisi metin için uygun bir başlık olabilir?

A) Alfabetik Sıralama  
B) Harfleri Tanıyalım  
C) Rakamların Gizemi

4) Hangi sözcükte ünlü ve ünsüz harf sayısı birbirine eşittir?

A) Oymapınar  
B) Külkedisi  
C) Kameralı

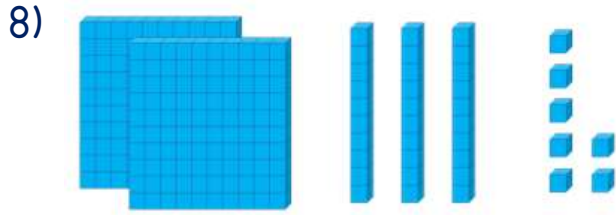
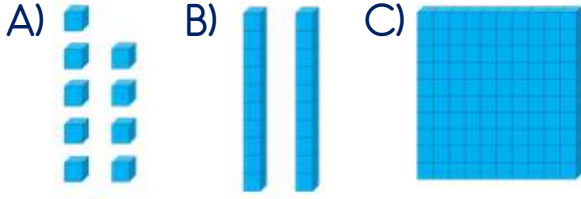
5) Hangi hayvanın ismindeki ünsüz harf sayısı daha azdır?



6) Türkçe bir sözcükteki ünlü harf sayısı hangisine eşittir?

A) Hece sayısına eşittir.  
B) Kelime sayısına eşittir.  
C) Cümle sayısına eşittir.

7) Aşağıdaki taban bloklarından hangisi diğerlerinden daha büyük bir sayıyı ifade etmektedir?



Yukarıda taban blokları ile verilen sayı kaçtır?

A) 237 B) 273 C) 327

9) "5 yüzlük + 0 onluk + 8 birlik"

Yukarıda yüzlük, onluk ve birlik olarak verilen sayı kaçtır?

A) 508 B) 580 C) 805

10) "674" sayısının okunuşu hangi seçenekte doğru olarak verilmiştir?

A) Altı yüz kırk yedi  
B) Altı yüz yetmiş dört  
C) Yedi yüz altmış dört

11) "Dokuz yüz elli altı"

Yukarıda okunuşu verilen sayı aşağıdakilerden hangisidir?

A) 596 B) 695 C) 956

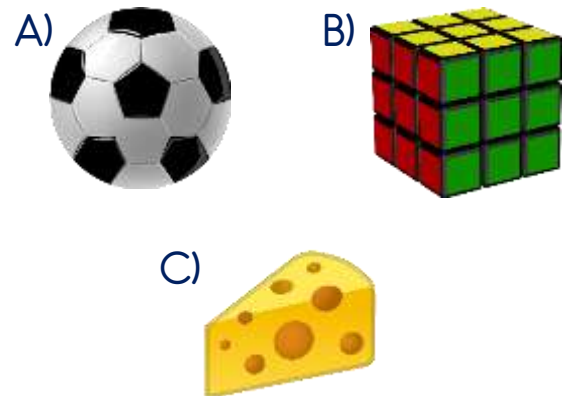
12) Aşağıdaki eşleştirmelerden hangisi yanlıştır?

A) 809 - Sekiz yüz doksan  
B) 757 - Yedi yüz elli yedi  
C) 643 - Altı yüz kırk üç

13) Hangisi çok eski zamanlarda Dünya'mızın şekli ile ilgili ortaya atılan fikirlerden biri değildir?

A) Öküzün boynuzları üzerinde durmaktadır.  
B) Düz bir tepsiye benzetilmektedir.  
C) Uçan halı gibi uçmaktadır.

14) Dünya'mızın şekli aşağıdaki varlıklardan hangisine benzetilmektedir?



15) Dünya'mızın alttan ve üstten basık, yanlardan şişik olan şekline ne ad verilir?

- A) Florit B) Geoit C) Mezgıt

16) Hangisi Dünya'mızın katmanlarından biri değildir?


- A) Çekirdek  
B) Manto  
C) Gökyüzü

17) "Kişinin en başarılı olduğu alan ve en iyi yaptığı iş, onun ....."


Yukarıdaki cümle hangi ifade ile tamamlanmalıdır?

- A) güçlü yönüdür.  
B) en sevdikleridir.  
C) vakit kaybıdır.

18) Hangi görsel, çocuğun güçlü yönünü yansıtmaktadır?



19) Hangi öğrenci güçlü yönü ile ilgili bir ifade kullanmıştır?

- A)  Her gün okula geç kalıyorum.
- B)  Ders çalışmayı hiç sevmiyorum.
- C)  Arkadaşlarımla çok iyi anlaşıyorum.

20) Hangisi güçsüz yönlerimizi geliştirmek için yapmamız gerekenlerden biri değildir?

- A) Arkadaşlarımızdan ve ailemizden yardım almalıyız.  
B) Kendimize güvenmemeliyiz.  
C) Başaracağımıza inanmalıyız.

## Cevap Anahtarı

1-A 2-B 3-B 4-C 5-C 6-A 7-C 8-A 9-A 10-B 11-C 12-A 13-C 14-A 15-B 16-C  
17-A 18-B 19-C 20-B